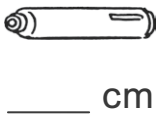
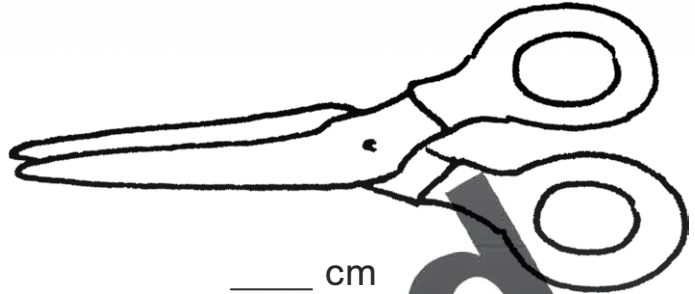




LÄNGEN MESSEN

1. Wie lang sind die Gegenstände? Miss mit deinem Lineal.



2. Wie lang sind die Strecken? Miss mit deinem Lineal.



_____ cm



_____ cm



_____ cm

LÄNGEN MESSEN

Wie lang sind die Wege zum Teich? Miss mit deinem Lineal.



GELDBETRÄGE

1. Wie viel Cent sind es?



_____ ct



_____ ct



_____ ct



_____ ct



_____ ct



_____ ct

2. Wie viel Euro sind es?



_____ €



_____ €



_____ €



_____ €



_____ €



_____ €

GELDBETRÄGE

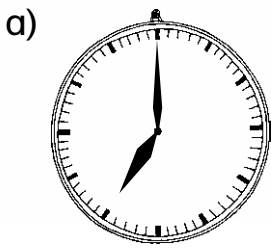
1. Bezahle mit möglichst wenigen Scheinen und Münzen. Trage die Anzahl ein.

50 €	20 €	10 €	5 €	1 €	50 ct	20 ct	10 ct	5 ct	2 ct	1 ct
------	------	------	-----	-----	-------	-------	-------	------	------	------

--	--	--	--	--	--	--	--	--	--	--

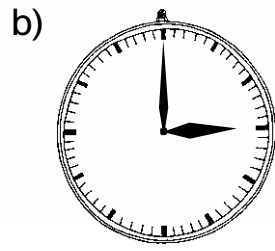
UHRZEITEN

1. Lies die Uhrzeit ab und schreibe beide Uhrzeiten auf.



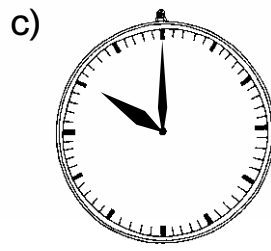
 7 Uhr

 19 Uhr



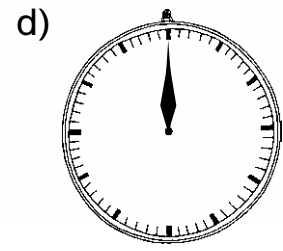
 Uhr

 Uhr



 Uhr

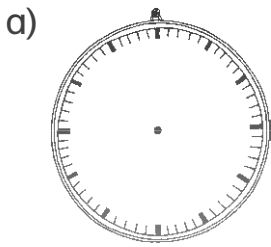
 Uhr



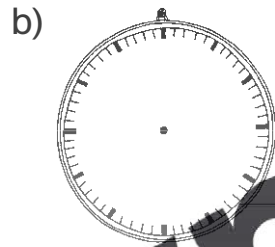
 Uhr

 Uhr

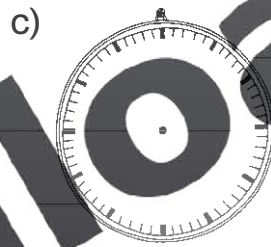
2. Zeichne die Zeiger ein (Minutenzeiger rot, Stundenzeiger grün).




4.00 Uhr



9.00 Uhr



23.00 Uhr



14.00 Uhr

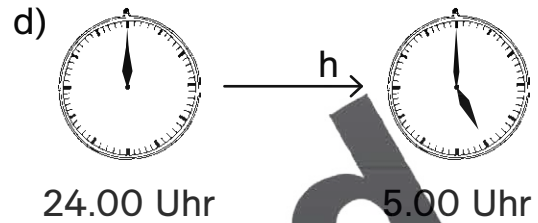
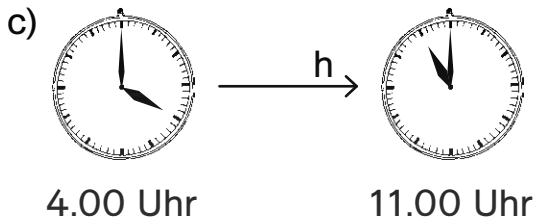
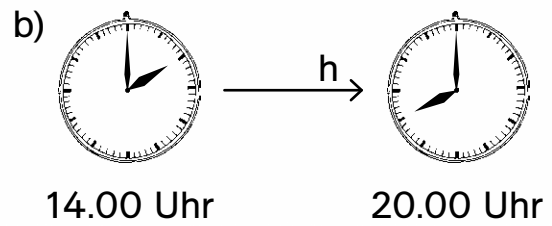
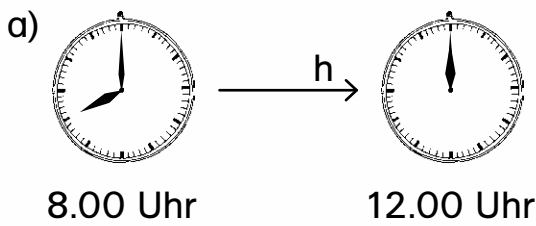
UHRZEITEN

1. Lies die Uhrzeit ab und schreibe beide Uhrzeiten auf.

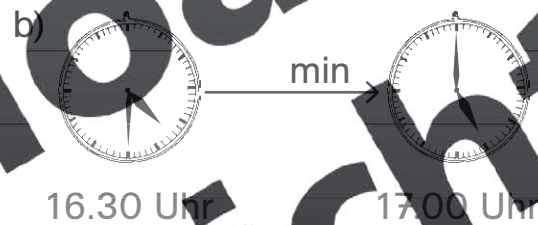
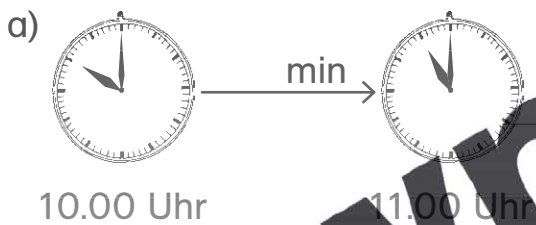


ZEITSPANNEN

1. Wie viele Stunden sind vergangen?

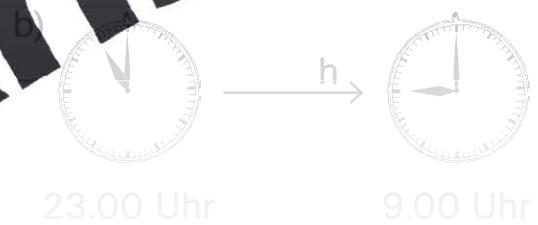


2. Wie viele Minuten sind vergangen?



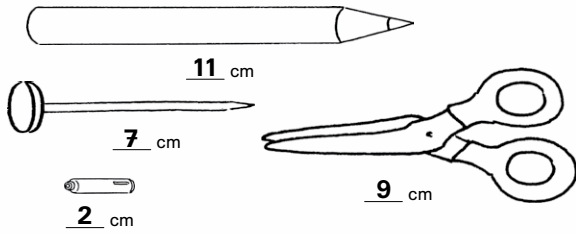
ZEITSPANNEN

1. Wie viele Stunden sind vergangen?



LÄNGEN MESSEN

1. Wie lang sind die Gegenstände? Miss mit deinem Lineal.

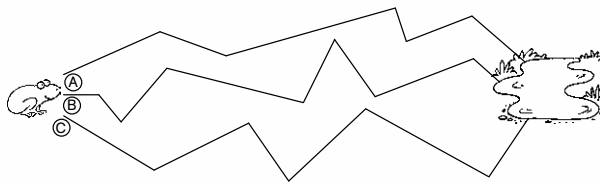


2. Wie lang sind die Strecken? Miss mit deinem Lineal.

- a) 1 cm
 b) 11 cm
 c) 6 cm

LÄNGEN MESSEN

Wie lang sind die Wege zum Teich? Miss mit deinem Lineal.



- A) 3 cm + 2 cm + 5 cm + 1 cm + 2 cm + 2 cm = 15 cm
 B) 1 cm + 1 cm + 2 cm + 4 cm + 2 cm + 2 cm + 3 cm + 1 cm = 16 cm
 C) 3 cm + 3 cm + 2 cm + 3 cm + 4 cm + 2 cm = 17 cm
 Der längste Weg ist C. Der kürzeste Weg ist A.

UHRZEITEN

1. Lies die Uhrzeit ab und schreibe beide Uhrzeiten auf.

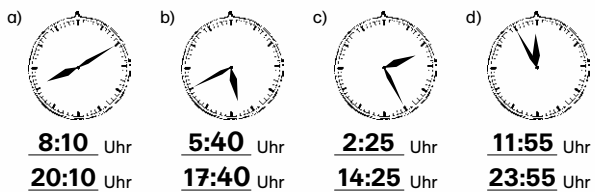


2. Zeichne die Zeiger ein (Minutenzeiger rot, Stundenzeiger grün).



UHRZEITEN

1. Lies die Uhrzeit ab und schreibe beide Uhrzeiten auf.

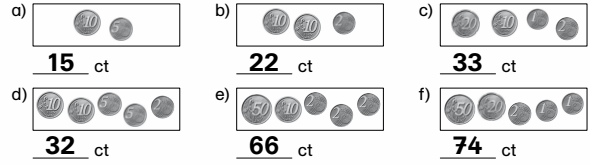


2. Schreibe zu den Uhrzeiten die passenden Tageszeiten aus dem Kasten.

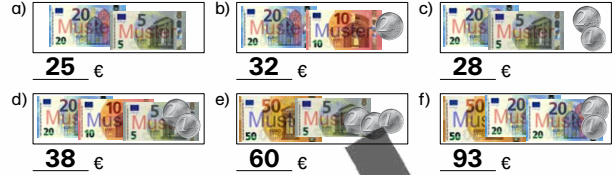
23:50 Uhr	5:35 Uhr	16:15 Uhr	mittags nachmittags abends nachts morgens vormittags
nachts	morgens	nachmittags	
9:30 Uhr	20:20 Uhr	12:05 Uhr	
vormittags	abends	mittags	

GELDBETRÄGE

1. Wie viel Cent sind es?



2. Wie viel Euro sind es?



GELDBETRÄGE

1. Bezahle mit möglichst wenigen Scheinen und Münzen. Trage die Anzahl ein.

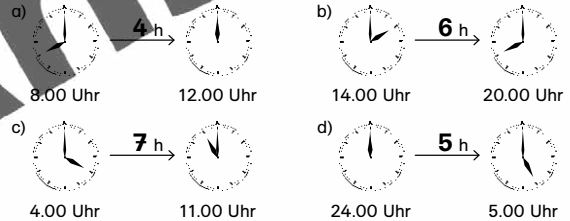
	50 €	20 €	10 €	5 €	2 €	1 €	50 ct	20 ct	10 ct	5 ct	2 ct	1 ct
18,65 €			1	1	1	1	1		1	1		
39,78 €		1	1	1	2		1	1		1	1	1
85,99 €	1	1	1	1			1	2		1	2	

2. Herr Wagner bezahlt in der Apotheke mit einem 50-€-Schein, einem 20-€-Schein, einem 5-€-Schein und zwei 2-€-Münzen. Die Apothekerin gibt ihm 50 Cent zurück. Wie viel Geld hat er bezahlt?

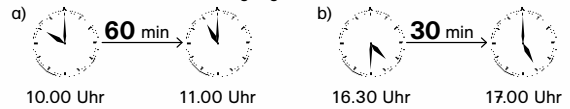
Er hat 78 Euro und 50 Cent bezahlt.

ZEITSPANNEN

1. Wie viele Stunden sind vergangen?



2. Wie viele Minuten sind vergangen?



ZEITSPANNEN

1. Wie viele Stunden sind vergangen?



2. Wie viele Minuten sind vergangen?

