



Zahlen suchen im Zahlenraum bis 10

Suche die Zahlen 1 und 6.

Male sie an.

4	7	10	8	2	9	3	7
2	8	5	10	4	7	8	9
5	6	1	3	6	6	4	2
6	1	6	6	1	6	1	5
1	6	1	1	6	1	6	3
1	6	1	6	1	1	6	8
7	1	6	6	6	1	2	4
2	4	3	1	5	3	8	7

Suche die Zahlen 2 und 7.

Male sie an.

1	3	4	3	6	8	1	3
9	5	6	2	3	3	5	4
4	10	7	7	2	4	8	9
6	2	2	7	2	7	10	6
7	2	10	2	7	2	7	4
3	7	7	7	2	7	8	3
5	2	7	4	7	2	9	1
8	7	2	3	2	7	6	10

Suche die Zahlen 3 und 8.

Male sie an.



1	5	10	3	2	4	10	5
4	7	8	8	3	7	6	4
2	9	3	3	8	5	1	6
10	8	8	3	8	3	9	2
6	3	8	3	3	8	6	1
3	8	8	8	3	3	8	4
8	3	3	8	3	3	8	2
2	5	2	3	6	7	10	1



Suche die Zahlen 4 und 9.

Male sie an.

2	9	4	9	3	5	1	6
4	9	2	4	10	3	2	8
6	4	4	9	2	1	7	5
3	9	9	4	4	8	10	2
7	4	9	9	4	9	4	9
1	9	4	4	9	4	9	3
5	9	4	9	4	5	1	10
2	1	4	7	6	3	8	7

Suche die Zahlen 5 und 0.

Male sie an.

10	2	9	8	4	6	3	4
6	0	5	7	10	0	0	2
3	5	0	1	7	5	0	1
8	5	5	6	2	5	5	9
2	7	1	9	7	10	4	10
9	10	7	0	5	6	3	2
4	0	3	9	8	10	0	8
1	2	5	0	5	0	1	3



Nachbarzehner



Suche 10 Nachbarzehner-Gruppen. Es sind immer drei Zahlen.

Sie liegen waagrecht oder senkrecht nebeneinander. ○ Kreise sie ein.

15	10	20	60	70	80	3	6	10	20	30	73
24	50	34	97	8	12	2	98	65	4	73	6
67	60	24	1	69	80	90	100	60	54	56	1
40	70	0	16	29	2	74	63	30	61	93	55
3	58	83	7	26	60	64	27	70	80	90	5
20	30	40	62	57	70	79	90	1	39	41	84
44	63	29	40	85	80	47	58	82	15	74	91
45	62	20	17	65	22	7	100	59	83	92	30
37	6	30	40	27	6	40	50	60	12	80	40
60	7	40	93	36	20	19	6	33	10	100	50



Du findest 6 waagrechte und 4 senkrechte Nachbarzehner-Gruppen.



Nachbarzehner



Suche 15 Nachbarzehner-Gruppen. Es sind immer drei Zahlen.

Sie können auch schräg (diagonal) nebeneinanderliegen. ○ Kreise sie ein.


10	91	48	92	50	47	36	10	50	50	19	67	10	20	30
50	20	60	20	10	40	50	60	12	60	16	83	30	62	73
71	30	30	9	28	71	56	100	20	70	40	80	3	100	100
10	3	47	60	90	30	81	63	70	22	37	90	91	90	62
81	40	18	6	20	46	70	30	80	40	21	100	80	88	44
89	50	3	19	22	30	78	90	90	72	27	20	18	80	19
15	60	91	84	63	37	40	48	80	60	54	10	20	30	100
100	12	32	50	33	49	90	57	90	56	87	92	10	91	0
17	16	30	40	50	50	26	80	20	90	7	6	69	13	18
60	20	66	0	40	20	70	7	36	0	30	20	1	50	70
70	19	11	41	67	13	0	60	71	82	10	13	42	57	60
80	0	30	80	90	100	51	100	80	0	17	64	0	13	20



Du findest 5 waagrechte, 5 senkrechte und 5 diagonale Nachbarzehner-Gruppen.




Plusrechnungen ZE + ZE ohne Stellenwertüberschreitung


 Suche 20 Rechnungen. Es sind immer drei Zahlen mit dem Ergebnis. Sie liegen waagrecht oder senkrecht nebeneinander.



Kreise sie ein.

10	15	25	3	6	37	7	73	15	88	90	1
24	19	34	0	1	23	97	8	12	34	2	98
65	83	7	14	43	57	67	57	68	3	69	60
54	4	62	16	38	29	57	21	4	66	12	78
16	29	34	94	74	63	30	78	28	61	62	93
55	3	96	83	34	15	49	73	93	37	12	64
27	53	94	62	41	53	98	1	64	98	43	70
51	12	92	44	40	22	78	63	23	29	55	40
91	56	82	31	11	42	11	52	87	72	11	83
50	3	30	47	64	58	89	29	53	0	52	82
15	74	22	36	52	88	45	28	62	81	83	40
65	17	32	19	65	36	62	94	99	13	72	59
81	4	54	92	37	15	40	27	22	98	49	38
2	30	72	37	47	12	59	92	14	85	28	21
15	7	23	75	98	20	19	6	36	28	19	59



Schreibe die Rechnungen mit den richtigen Rechenzeichen ab.

 Du findest 10 waagrechte und 10 senkrechte Rechnungen.

  Du findest Rechnungen mit folgenden Ergebnissen: 25, 36, 42, 49, 54, 55, 57, 59, 59, 65, 78, 78, 83, 87, 88, 88, 89, 96, 98, 98.



Minusrechnungen ZE – E mit Zehnerübergang




Suche 30 Rechnungen. Es sind immer drei Zahlen mit dem Ergebnis.

Vorsicht: Achte auf den Zehnerübergang!

Sie können auch schräg (diagonal) nebeneinanderliegen.

Kreise sie ein.

29	10	83	4	91	37	37	81	63	48	2	49	20	61	83
15	82	2	26	92	35	58	28	72	6	73	4	69	12	16
27	6	61	8	20	7	62	82	73	91	7	29	85	63	54
71	74	9	18	71	28	83	46	9	37	6	90	65	35	82
15	3	47	56	2	60	71	49	79	82	26	19	9	83	73
50	53	5	48	91	72	4	68	63	74	18	53	56	49	50
15	81	49	60	72	55	4	49	91	71	2	69	29	36	93
81	3	78	82	84	8	0	29	35	89	1	8	10	11	51
5	81	63	8	70	47	67	9	58	19	37	44	8	36	0
15	15	92	18	47	43	12	60	46	9	50	71	38	2	20
5	6	90	3	75	26	4	81	53	79	49	61	4	69	38
51	9	2	33	57	83	16	25	88	62	8	54	27	2	18
89	33	9	7	7	81	37	9	77	3	81	5	40	36	72
15	91	64	6	67	62	73	16	47	83	9	74	82	7	85
28	36	70	61	62	49	30	53	5	57	8	28	75	29	54
15	74	32	5	51	5	46	82	61	85	6	69	87	9	10
17	28	7	82	0	1	82	71	27	7	8	62	36	51	66
15	2	37	67	8	59	56	99	8	38	7	77	9	59	6
44	39	1	49	92	81	29	42	19	47	36	10	27	19	67



Schreibe die Rechnungen mit den richtigen Rechenzeichen ab.




Du findest 12 waagrechte, 9 senkrechte und 9 diagonale Rechnungen.



Du findest Rechnungen mit folgenden Ergebnissen: 8, 9, 16, 18, 19, 27, 28, 29, 29, 36, 37, 38, 46, 47, 48, 49, 54, 56, 57, 58, 59, 66, 67, 68, 69, 69, 74, 77, 78, 84.



Malrechnungen mit 3er-, 6er- und 10er-Reihen

 Suche 20 Rechnungen. Es sind immer drei Zahlen mit dem Ergebnis. Sie liegen waagrecht oder senkrecht nebeneinander.


Kreise sie ein.





5	6	30	3	6	37	7	73	5	78	90	1
24	19	34	0	1	3	97	8	3	3	9	98
65	83	4	6	24	6	67	3	10	6	60	69
54	9	56	16	38	18	57	10	45	78	40	0
16	29	2	94	74	63	30	30	28	6	6	36
55	7	5	10	50	5	39	73	93	7	26	64
27	6	94	62	57	79	90	7	10	70	6	70
51	42	92	42	40	22	2	63	79	29	41	9
91	46	5	3	15	85	3	8	10	80	6	3
85	7	30	47	64	58	6	29	53	0	52	27
15	8	3	24	54	91	45	28	62	85	83	40
65	17	2	19	65	22	7	3	21	9	72	59
81	10	83	8	6	48	40	27	5	6	49	6
2	10	72	37	47	28	62	92	77	54	28	10
15	100	93	10	98	20	19	6	33	28	19	60



Schreibe die Rechnungen mit den richtigen Rechenzeichen ab.

 Du findest 12 waagrechte und 8 senkrechte Rechnungen.

  Du findest Rechnungen mit folgenden Ergebnissen: 6, 9, 15, 18, 21, 24, 24, 27, 30, 30, 36, 42, 48, 50, 54, 60, 60, 70, 80, 100.



Geteiltrechnungen mit 3er-, 5er- und 9er-Reihen




Suche 30 Rechnungen. Es sind immer drei Zahlen mit dem Ergebnis.

Sie können auch schräg (diagonal) nebeneinanderliegen.

Kreise sie ein.

29	4	3	4	91	45	37	81	63	48	40	49	20	61	83
15	9	7	60	92	5	58	28	5	6	5	27	24	3	8
27	83	6	3	2	9	83	3	72	91	8	29	85	63	54
71	38	58	28	71	56	15	28	6	93	6	81	9	9	82
15	27	3	9	2	60	71	49	79	82	26	19	3	83	73
50	19	2	73	1	37	72	9	8	74	18	20	65	49	50
15	81	49	60	72	55	30	49	91	48	72	5	29	36	93
32	81	18	3	6	1	5	29	35	63	1	4	21	3	7
15	81	23	6	9	40	6	62	73	9	37	62	90	67	0
10	25	2	9	1	48	12	60	46	7	50	71	38	2	20
15	5	90	3	25	54	9	6	53	79	80	15	5	3	38
15	5	2	3	73	83	16	67	88	45	72	90	27	2	18
89	3	19	22	78	3	11	5	2	3	81	5	9	29	72
15	91	30	3	10	62	3	81	35	57	7	2	12	10	85
28	3	70	61	62	49	30	1	5	5	8	28	3	71	54
15	45	32	5	10	48	4	82	27	60	7	3	4	92	10
17	9	5	82	36	9	4	71	9	7	18	9	2	51	10
15	5	73	30	72	49	56	99	3	38	7	77	6	5	6
44	39	1	49	92	81	29	40	5	47	36	10	50	19	67



Schreibe die Rechnungen mit den richtigen Rechenzeichen ab.



Du findest 12 waagrechte, 10 senkrechte und 8 diagonale Rechnungen.



Du findest Rechnungen mit folgenden Ergebnissen: 1, 1, 2, 2, 2, 3, 3, 3, 3, 4, 4, 4, 5, 5, 5, 6, 6, 6, 7, 7, 7, 8, 8, 8, 9, 9, 9, 10, 10, 10.

