



Gemischte Rechnungen mit 3er-, 4er- und 6er-Reihen




Suche 20 Rechnungen. Es können Mal- und Geteiltaufgaben sein.

Es sind immer drei Zahlen mit dem Ergebnis. Sie liegen waagrecht oder senkrecht nebeneinander.

Kreise sie ein.

10	3	30	3	6	37	8	70	5	78	90	1
24	6	4	0	4	21	4	100	12	34	2	98
65	83	4	73	4	6	32	24	15	3	5	60
54	8	56	16	1	29	20	23	45	78	40	0
6	29	5	4	20	63	30	56	28	16	4	4
9	3	58	83	34	8	39	7	6	42	26	64
27	5	3	62	6	3	81	1	39	68	6	70
51	5	6	44	10	22	78	63	24	29	9	40
91	46	18	3	12	3	4	52	4	84	3	90
85	3	30	77	64	58	79	29	6	0	27	82
25	74	12	4	3	91	45	28	62	85	83	40
65	5	2	19	65	22	36	6	6	4	9	59
		2	3	6	6	40	27	5	83	4	10



Download
zur Ansicht



Gemischte Rechnungen mit 3er-, 4er- und 6er-Reihen



Suche 30 Rechnungen. Es können Mal- und Geteiltaufgaben sein.

Es sind immer drei Zahlen mit dem Ergebnis. Sie können auch schräg (diagonal) nebeneinanderliegen.



Kreise sie ein.

29	24	83	44	91	37	37	81	63	80	1	49	20	61	83
15	4	2	60	92	4	58	36	6	6	19	5	4	20	16
27	6	4	3	20	6	62	82	73	3	7	29	85	63	54
71	38	61	4	2	24	83	28	10	6	6	28	4	7	82
6	12	47	50	16	60	71	44	79	18	26	19	3	83	73
50	3	3	4	4	37	6	3	18	74	18	53	27	49	50
15	81	2	4	72	55	4	49	91	48	72	91	3	36	93
32	81	16	60	91	1	32	29	15	3	5	90	9	11	51
51	48	63	6	60	47	4	62	10	19	37	60	90	100	0
1	6	100	12	6	48	8	60	3	4	6	71	10	2	25
0	8	90	6	75	26	4	81	30	10	80	61	4	50	38
15	58	6	20	18	30	6	5	88	46	72	7	27	2	18
3	1	17	22	100	81	37	14	77	3	81	5	40	29	72
3	91	42	6	90	62	73	20	3	27	80	42	100	12	85
9	3	36	61	2	3	6	1	5	54	6	9	5	4	54
15	4	32	10	48	4	82	61	60	27	3	87	3	10	
9	8	8	10	10	7	71	24	2	4	8	2	51	61	



Download zur Ansicht



Gemischte Rechnungen mit 5er-, 8er- und 9er-Reihen



Suche 20 Rechnungen. Es können Mal- und Geteiltaufgaben sein.

Es sind immer drei Zahlen mit dem Ergebnis. Sie liegen waagrecht oder senkrecht nebeneinander.

Kreise sie ein.

15	5	3	20	6	37	7	73	50	78	64	1
24	19	34	10	5	50	97	8	81	34	8	98
65	83	5	73	53	6	67	24	9	100	8	60
56	4	56	16	38	1	8	8	9	78	40	0
8	54	20	94	74	63	30	56	28	30	5	6
7	9	58	83	34	5	93	73	93	7	26	64
27	6	94	1	9	9	90	1	39	8	6	70
51	5	92	44	40	22	72	2	79	5	41	40
91	46	4	8	32	85	8	8	7	40	6	90
85	3	30	47	64	58	9	16	53	0	52	82
5	5	1	10	54	91	45	28	62	27	9	3
65	17	2	8	55	45	5	9	72	4	72	59
81	24	33	0	37	6	100	27	25	6	49	4

Download zur Ansicht





Gemischte Rechnungen mit 5er-, 8er- und 9er-Reihen



Suche 30 Rechnungen. Es können Mal- und Geteiltaufgaben sein.

Es sind immer drei Zahlen mit dem Ergebnis. Sie können auch schräg (diagonal) nebeneinanderliegen.



Kreise sie ein.

29	4	32	4	91	37	37	81	63	84	1	49	20	61	83
15	8	100	60	92	45	5	9	64	6	19	40	85	35	16
4	83	8	5	40	39	62	82	8	91	7	29	8	63	54
71	72	9	28	71	56	83	28	8	93	6	2	62	5	82
15	9	47	24	2	60	1	81	29	82	26	5	6	83	73
50	8	9	8	91	87	75	8	63	74	18	10	35	5	7
15	81	49	3	72	55	5	49	8	9	3	91	29	36	93
32	81	54	9	6	100	5	29	35	89	100	90	30	11	81
15	81	63	100	69	47	25	62	73	6	37	62	5	100	9
15	9	29	18	6	48	12	15	46	8	50	71	6	2	9
7	4	58	32	10	1	9	9	53	48	80	61	4	69	38
15	58	2	33	5	83	16	67	88	5	9	45	27	9	18
89	5	5	1	50	81	10	9	90	3	81	5	40	8	72
15	91	84	56	62	48	73	81	47	48	80	2	82	72	85
28	30	70	6	8	49	30	52	4	9	36	28	15	71	54
5	9	16	5	10	7	4	82	61	60	27	3	5	92	10
8	82	4	5	20	71	91	9	98	62	3	51	61		

Download
zur Ansicht



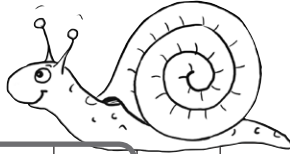
Gemischte Rechnungen mit 2er-, 7er- und 10er-Reihen



Suche 20 Rechnungen. Es können Mal- und Geteiltaufgaben sein.

Es sind immer drei Zahlen mit dem Ergebnis. Sie liegen waagrecht oder senkrecht nebeneinander.

Kreise sie ein.



2	10	20	3	6	37	7	73	5	56	90	1
24	19	34	0	1	23	97	8	12	7	2	98
65	83	16	2	8	6	1	24	68	8	69	10
54	4	56	16	38	29	2	60	10	6	40	7
16	7	7	49	74	63	2	56	28	61	62	70
100	3	58	70	10	7	39	73	93	3	26	64
27	5	94	62	57	79	90	1	39	10	6	70
51	1	5	2	10	22	78	63	79	30	41	40
91	10	82	3	63	4	100	20	2	10	6	90
85	10	30	47	64	10	79	29	53	0	80	82
15	74	5	7	35	40	45	28	62	85	10	40
12	17	11	19	65	22	7	42	7	6	8	59
4	2	22	22	27	100	40	23	5	23	40	50

Download zur Ansicht



Gemischte Rechnungen mit 2er-, 7er- und 10er-Reihen

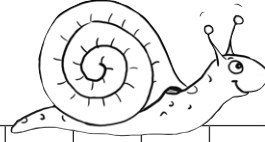


Suche 30 Rechnungen. Es können Mal- und Geteiltaufgaben sein.

Es sind immer drei Zahlen mit dem Ergebnis. Sie können auch schräg (diagonal) nebeneinanderliegen.



Kreise sie ein.




29	4	3	4	91	56	7	8	63	48	100	49	20	61	83
15	50	2	10	92	30	37	100	72	5	10	50	10	12	16
1	83	83	60	30	39	62	4	73	91	7	29	85	2	54
2	38	9	28	2	5	83	10	60	14	7	2	66	6	82
2	80	2	2	71	7	71	40	79	82	8	19	33	83	73
50	19	4	73	91	35	75	81	63	74	18	2	65	49	50
15	42	49	60	9	7	63	49	91	48	100	2	4	36	93
32	7	6	82	47	100	0	9	35	89	60	90	15	90	51
15	6	80	10	8	47	19	2	73	19	10	62	90	10	0
15	56	6	18	6	48	100	18	46	4	6	71	38	9	20
15	2	90	2	28	7	4	81	59	16	2	8	4	69	38
70	10	7	33	3	83	16	67	88	10	72	90	27	20	18
99	3	99	22	78	81	37	1	10	81	81	5	10	29	72
15	91	84	5	10	13	1	47	48	80	2	40	2	85	
28	21	3	32	49	7	52	5	1	8	28	52	10	54	
15	32	7	4	7	82	57	3	7	3	87	7	10		

Download
zur Ansicht




Gemischte Rechnungen mit allen Reihen

 Suche 20 Rechnungen. Es können Mal- und Geteiltaufgaben aller Reihen sein. Es sind immer drei Zahlen mit dem Ergebnis. Sie liegen waagrecht oder senkrecht nebeneinander.

Kreise sie ein.

81	4	83	54	6	9	32	27	36	19	4	40
2	30	72	37	47	28	9	5	7	35	28	10
15	7	3	21	98	20	4	6	33	28	19	4
7	100	5	78	90	11	5	5	25	20	56	37
97	8	40	5	8	98	24	72	34	0	8	23
67	24	6	1	69	60	65	9	4	59	7	35
57	23	6	78	40	100	54	8	56	16	38	29
3	10	36	18	6	3	16	29	2	94	74	30
27	73	93	7	42	64	55	3	48	8	6	5
3	1	39	5	6	63	7	9	94	62	57	10
9	63	79	9	9	40	51	5	92	44	40	2
1	52	7	45	6	7	91	12	2	6	65	20
10	10	00	0	2	7	85	28	30	47	4	58



Download zur Ansicht




Gemischte Rechnungen mit allen Reihen



Suche 30 Rechnungen. Es können Mal- und Geteiltaufgaben aller Reihen sein. Es sind immer drei Zahlen mit dem Ergebnis. Sie können auch schräg (diagonal) nebeneinanderliegen.

Kreise sie ein.



34	20	61	20	89	3	60	2	6	81	37	14	56	3	81
21	10	5	16	15	91	84	6	91	8	73	81	7	48	80
29	4	63	54	18	6	3	61	16	49	48	52	8	57	8
36	4	9	82	15	94	32	5	2	4	4	82	61	60	27
19	3	83	73	17	6	4	24	8	100	3	9	27	7	98
9	6	54	50	15	2	37	30	72	49	56	99	2	38	7
91	29	36	10	44	39	5	5	1	81	29	32	5	9	36
90	4	11	10	29	4	83	3	5	6	80	81	63	48	7
81	8	64	100	15	40	2	60	92	2	58	28	82	7	3
63	32	2	20	27	8	61	3	7	89	62	82	49	91	7
61	4	69	35	71	5	9	28	4	56	4	28	6	8	6
5	40	7	18	15	3	47	56	28	60	7	4	22	8	26
2	5	29	72	50	45	6	8	91	37	75	81	16	64	18
15	19	67	15	81	49	60	72	55	4	49	91	48	72	
	6	85	32	6	7	42	4	1	100	35	81	89	11	

Download zur Ansicht

Lösungen

100 Name _____ Datum _____

Gemischte Rechnungen mit 3er-, 4er- und 6er-Reihen

Suche 20 Rechnungen. Es können Mal- und Geteiltaufgaben sein. Es sind immer drei Zahlen mit dem Ergebnis. Sie liegen waagrecht oder senkrecht nebeneinander.

Kreise sie ein.

10	3	30	3	6	37	8	70	5	78	90	1
24	6	4	0	4	21	4	100	12	34	2	98
65	83	4	73	4	6	32	24	15	3	5	60
54	8	56	16	1	29	20	23	45	78	40	0
6	29	5	4	20	63	30	56	28	16	4	4
9	3	58	83	34	8	39	7	6	42	26	64
27	5	3	62	6	3	81	1	39	68	6	70
51	5	6	44	10	22	78	63	24	29	9	40
91	46	18	3	12	3	4	52	4	84	3	90
85	3	30	77	64	58	79	29	6	0	27	82
25	74	12	4	3	91	45	28	62	85	83	40
65	17	2	19	65	22	36	6	6	4	9	59
81	24	2	3	6	6	40	27	5	83	4	10
2	3	72	37	47	88	62	30	6	5	36	6
15	8	93	5	18	20	19	6	33	28	19	60

Schreibe die Rechnungen mit den richtigen Rechenzeichen ab.

- Du findest 11 waagrechte und 9 senkrechte Rechnungen.
- Du findest 9 Malrechnungen und 11 Geteiltrechnungen.
- Du findest Rechnungen mit folgenden Ergebnissen: 1, 3, 4, 4, 4, 5, 5, 6, 6, 6, 8, 9, 18, 20, 27, 30, 32, 36, 42, 60.

100 Name _____ Datum _____

Gemischte Rechnungen mit 3er-, 4er- und 6er-Reihen

Suche 30 Rechnungen. Es können Mal- und Geteiltaufgaben sein. Es sind immer drei Zahlen mit dem Ergebnis. Sie können auch schräg (diagonal) nebeneinanderliegen.

Kreise sie ein.

29	24	83	44	91	37	37	81	63	80	1	49	20	61	83
15	4	2	60	92	4	58	36	6	6	19	5	4	20	16
27	6	4	3	20	6	62	82	73	3	7	29	85	63	54
71	38	61	4	2	24	83	28	10	6	6	28	4	7	82
6	12	47	50	16	60	71	44	79	18	26	19	3	83	73
50	3	3	4	4	37	6	3	18	74	18	53	27	49	50
15	81	2	4	72	55	4	49	91	48	72	91	3	36	93
32	81	16	60	91	1	32	29	15	3	5	90	9	11	51
51	48	63	6	60	47	4	62	10	18	37	60	90	100	0
1	6	100	12	6	48	8	60	3	4	6	71	10	2	25
0	8	90	6	75	26	4	81	30	10	60	61	4	50	38
15	58	6	20	18	30	6	5	88	45	72	7	27	2	18
3	1	17	22	100	81	37	14	77	3	81	6	40	29	72
3	91	42	6	90	82	73	20	3	27	80	42	100	12	85
9	3	36	61	2	3	6	1	5	54	6	9	5	4	54
15	4	32	5	10	48	4	82	61	60	27	3	87	3	10
9	6	5	82	21	8	7	71	24	2	4	8	2	51	61
15	4	100	80	72	49	56	98	3	38	7	77	6	6	6
44	39	1	45	10	4	40	42	8	47	36	10	80	100	12

Schreibe die Rechnungen mit den richtigen Rechenzeichen ab.

- Du findest 11 waagrechte, 11 senkrechte und 8 diagonale Rechnungen.
- Du findest 16 Malrechnungen und 14 Geteiltrechnungen.
- Du findest Rechnungen mit folgenden Ergebnissen: 2, 3, 3, 4, 5, 6, 6, 6, 6, 7, 7, 8, 8, 8, 8, 9, 9, 9, 12, 16, 18, 18, 20, 24, 30, 36, 40, 42, 60.

100 Name _____ Datum _____

Gemischte Rechnungen mit 5er-, 8er- und 9er-Reihen

Suche 20 Rechnungen. Es können Mal- und Geteiltaufgaben sein. Es sind immer drei Zahlen mit dem Ergebnis. Sie liegen waagrecht oder senkrecht nebeneinander.

Kreise sie ein.

15	5	3	20	6	37	7	73	50	64	1
24	19	34	10	5	50	97	64	8	98	
65	83	5	73	53	24	100	8	60		
56	4	56	15	1	40	0				
8	54	78	5	6						

Schreibe die Rechnungen mit den richtigen Rechenzeichen ab.

- Du findest 11 waagrechte und 9 senkrechte Rechnungen.
- Du findest 9 Malrechnungen und 11 Geteiltrechnungen.
- Du findest Rechnungen mit folgenden Ergebnissen: 1, 3, 4, 4, 4, 5, 5, 6, 6, 6, 8, 9, 18, 20, 27, 30, 32, 36, 42, 60.

100 Name _____ Datum _____

Gemischte Rechnungen mit 5er-, 8er- und 9er-Reihen

Suche 30 Rechnungen. Es können Mal- und Geteiltaufgaben sein. Es sind immer drei Zahlen mit dem Ergebnis. Sie können auch schräg (diagonal) nebeneinanderliegen.

Kreise sie ein.

29	4	32	4	91	37	37	81	63	84	1	49	20	61	83
15	8	100	60	92	45	5	9	64	6	19	40	85	35	16
4	83	8	5	40	39	62	82	8	91	7	29	8	63	54
71	72	9	28	71	56	83	28	8	93	6	2	62	5	82
15	9	47	24	2	80	1	81	29	82	26	5	8	83	73
80	8	9	8	81	37	78	6	63	74	18	10	35	5	7
15	81	24	3	25	16	7	3	71	18	36	54			

Schreibe die Rechnungen mit den richtigen Rechenzeichen ab.

- Du findest 11 waagrechte, 11 senkrechte und 8 diagonale Rechnungen.
- Du findest 16 Malrechnungen und 14 Geteiltrechnungen.
- Du findest Rechnungen mit folgenden Ergebnissen: 2, 3, 3, 4, 5, 6, 6, 6, 6, 7, 7, 8, 8, 8, 8, 9, 9, 9, 12, 16, 18, 18, 20, 24, 30, 36, 40, 42, 60.

Download zur Ansicht

Lösungen

100 Name _____ Datum _____

Gemischte Rechnungen mit 2er-, 7er- und 10er-Reihen

Suche 20 Rechnungen. Es können Mal- und Geteiltaufgaben sein. Es sind immer drei Zahlen mit dem Ergebnis. Sie liegen waagrecht oder senkrecht nebeneinander.

Kreise sie ein.

2	10	20	3	6	37	7	73	5	56	90	1
24	19	34	0	1	23	97	8	12	7	2	98
65	83	16	2	8	6	1	24	68	8	69	10
54	4	56	16	38	29	2	60	10	6	40	7
16	7	7	49	74	63	2	56	28	61	62	70
100	3	58	70	10	7	39	73	93	3	26	64
27	5	94	62	57	79	90	1	39	10	6	70
51	1	5	2	10	22	78	63	79	30	41	40
91	10	82	3	63	4	100	20	2	10	6	90
85	10	30	47	64	10	79	29	53	0	80	82
15	74	5	7	35	40	45	28	62	85	10	40
12	17	11	19	65	22	7	42	7	6	8	59
2	4	83	92	37	100	40	27	5	83	49	59
6	30	2	4	7	28	2	2	4	85	28	100
10	10	100	5	98	20	19	6	33	28	19	60

Schreibe die Rechnungen mit den richtigen Rechenzeichen ab.

- Du findest 12 waagrechte und 8 senkrechte Rechnungen.
- Du findest 12 Malrechnungen und 8 Geteiltrechnungen.
- Du findest Rechnungen mit folgenden Ergebnissen: 2, 4, 6, 6, 6, 7, 8, 8, 8, 10, 10, 10, 20, 28, 30, 35, 40, 49, 70, 100.

100 Name _____ Datum _____

Gemischte Rechnungen mit 2er-, 7er- und 10er-Reihen

Suche 30 Rechnungen. Es können Mal- und Geteiltaufgaben sein. Es sind immer drei Zahlen mit dem Ergebnis. Sie können auch schräg (diagonal) nebeneinanderliegen.

Kreise sie ein.

29	4	3	4	91	56	7	8	63	48	100	49	20	61	83
15	50	2	10	92	30	37	100	72	5	10	50	10	12	16
1	83	83	60	30	39	62	4	73	91	7	29	85	2	54
2	38	9	28	2	5	83	10	60	14	7	2	66	6	82
2	80	2	2	71	7	71	40	79	82	8	19	33	83	73
50	19	4	73	91	35	75	81	63	74	18	2	65	49	50
15	42	49	60	9	7	63	49	91	48	100	2	4	36	93
32	7	6	82	47	100	0	9	35	89	60	90	15	90	51
15	6	80	10	8	47	19	2	73	19	10	62	90	10	0
15	56	6	18	6	48	100	18	46	4	6	71	38	9	20
15	2	90	2	28	7	4	81	53	16	2	8	4	69	38
70	10	7	33	3	83	16	67	88	10	72	90	27	20	18
89	3	99	22	78	81	37	1	10	81	81	5	10	29	72
15	91	84	5	2	10	73	1	47	48	80	2	40	2	85
28	21	7	3	62	49	7	52	5	1	8	28	52	10	54
15	94	32	5	10	4	7	82	57	3	7	3	87	7	10
17	93	37	2	10	1	49	71	91	16	2	7	80	70	61
15	2	20	30	72	49	65	7	10	10	100	77	6	59	6
44	90	7	2	14	81	29	40	5	47	36	10	5	19	100

Schreibe die Rechnungen mit den richtigen Rechenzeichen ab.

- Du findest 12 waagrechte, 10 senkrechte und 8 diagonale Rechnungen.
- Du findest 15 Malrechnungen und 15 Geteiltrechnungen.
- Du findest Rechnungen mit folgenden Ergebnissen: 2, 2, 2, 3, 3, 4, 4, 6, 6, 6, 7, 7, 8, 8, 8, 9, 10, 10, 10, 14, 18, 20, 30, 35, 40, 49, 50, 63, 70, 100.

100 Name _____ Datum _____

Gemischte Rechnungen mit allen Reihen

Suche 20 Rechnungen. Es können Mal- und Geteiltaufgaben aller Reihen sein. Es sind immer drei Zahlen mit dem Ergebnis. Sie liegen waagrecht oder senkrecht nebeneinander.

Kreise sie ein.

81	4	83	54	6	9	32	27	36	15	4	40
2	30	72	37	47	28	9	15	28	10		
15	7	3	21	98	2	6	28	19	4		
7	100	5	78	11	12	56	37				
97	8	10	98	8	23						

Schreibe die Rechnungen mit den richtigen Rechenzeichen ab.

- Du findest 12 waagrechte und 8 senkrechte Rechnungen.
- Du findest 12 Malrechnungen und 8 Geteiltrechnungen.
- Du findest Rechnungen mit folgenden Ergebnissen: 2, 4, 6, 6, 6, 7, 8, 8, 8, 10, 10, 10, 20, 28, 30, 35, 40, 49, 70, 100.

100 Name _____ Datum _____

Gemischte Rechnungen mit allen Reihen

Suche 20 Rechnungen. Es können Mal- und Geteiltaufgaben aller Reihen sein. Es sind immer drei Zahlen mit dem Ergebnis. Sie können auch schräg (diagonal) nebeneinanderliegen.

Kreise sie ein.

34	20	61	20	89	3	60	2	6	81	37	14	56	3	81
21	10	5	18	15	91	84	6	91	5	73	81	7	48	80
29	4	63	54	18	6	3	81	16	49	46	52	8	57	8
36	4	9	82	15	94	32	5	2	4	4	82	81	80	27
18	2	81	75	19	8	2	3	8	100	3	3	27	7	98

Schreibe die Rechnungen mit den richtigen Rechenzeichen ab.

- Du findest 12 waagrechte, 10 senkrechte und 8 diagonale Rechnungen.
- Du findest 15 Malrechnungen und 15 Geteiltrechnungen.
- Du findest Rechnungen mit folgenden Ergebnissen: 2, 2, 2, 3, 3, 4, 4, 6, 6, 6, 7, 7, 8, 8, 8, 9, 10, 10, 10, 14, 18, 20, 30, 35, 40, 49, 50, 63, 70, 100.

Download zur Ansicht