




Name \_\_\_\_\_

Datum \_\_\_\_\_

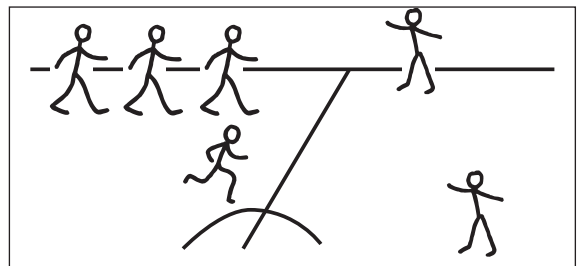



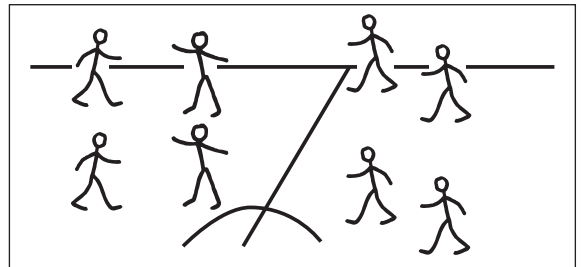

# Fußballtraining

Wie viele Spieler sind zu sehen? Zähle und trage ein.

Beispiel:



5



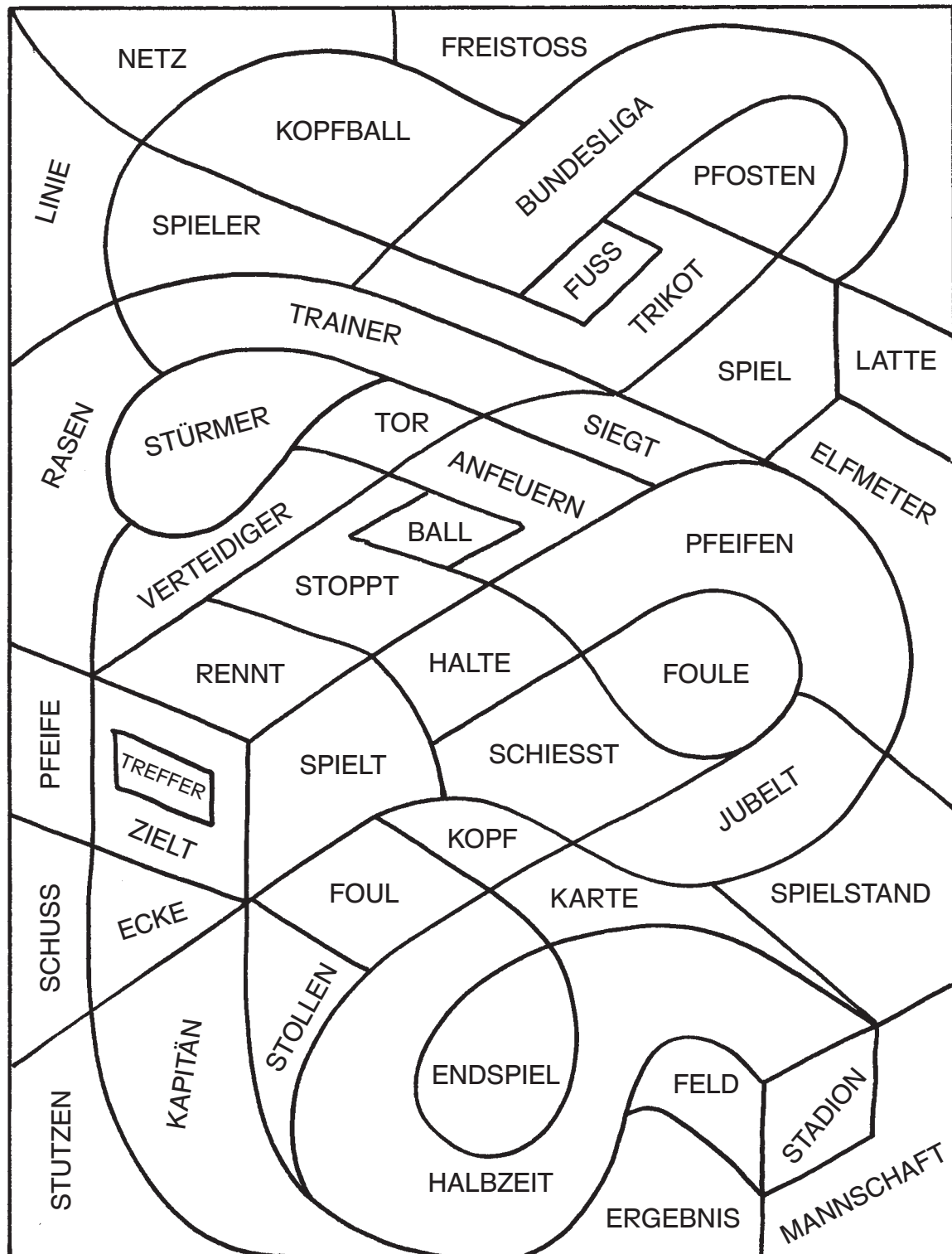


Name \_\_\_\_\_

Datum \_\_\_\_\_

## Nomen und Verben erkennen

Male die Felder mit Nomen grün und die Felder mit Verben schwarz an.





Name \_\_\_\_\_

Datum \_\_\_\_\_

## Addiere und male an

Rechne schriftlich aus.



$$\begin{array}{r} 356 \\ + 316 \\ \hline \end{array}$$

$$\begin{array}{r} 243 \\ + 56 \\ \hline \end{array}$$

$$\begin{array}{r} 308 \\ + 507 \\ \hline \end{array}$$

$$\begin{array}{r} 61 \\ + 119 \\ \hline \end{array}$$

$$\begin{array}{r} 441 \\ + 260 \\ \hline \end{array}$$

$$\begin{array}{r} 155 \\ + 724 \\ \hline \end{array}$$

$$\begin{array}{r} 811 \\ + 187 \\ \hline \end{array}$$



$$\begin{array}{r} 152 \\ + 329 \\ \hline \end{array}$$

$$\begin{array}{r} 628 \\ + 201 \\ \hline \end{array}$$

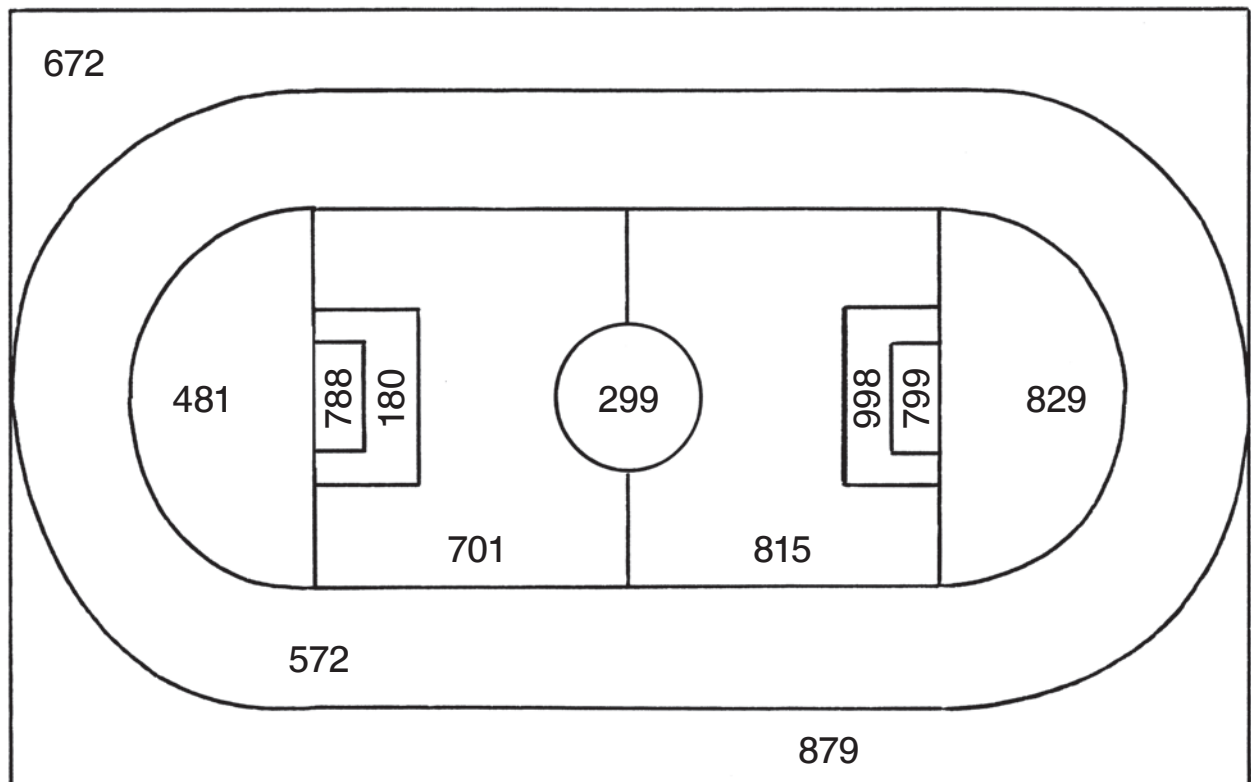


$$\begin{array}{r} 235 \\ + 337 \\ \hline \end{array}$$

$$\begin{array}{r} 412 \\ + 387 \\ \hline \end{array}$$

$$\begin{array}{r} 504 \\ + 284 \\ \hline \end{array}$$

Male in der richtigen Farbe an.





Name \_\_\_\_\_

Datum \_\_\_\_\_

## Zukunftsträume

Sieh dir an, wovon die Kinder träumen.  
Setze die Verbformen im Futur in die Lücken.  
Die Verbformen unten im Kasten sollen dir helfen.



Max

Max \_\_\_\_\_ nur wenige Bälle  
ins Tor \_\_\_\_\_.



Anna

Anna \_\_\_\_\_ eine erfolgreiche  
Fußballerin \_\_\_\_\_.



Tom und Sina

Tom und Sina \_\_\_\_\_ viel  
Spaß mit ihrer Lieblingsmannschaft  
\_\_\_\_\_.



Emil

Emil \_\_\_\_\_ als Trainer  
\_\_\_\_\_.



Moritz und Mia

Moritz und Mia \_\_\_\_\_ jedes  
Spiel im Fernsehen \_\_\_\_\_.



Svenja

Svenja \_\_\_\_\_ jeden Tag  
\_\_\_\_\_.



Eric

Eric \_\_\_\_\_ als Fußballer um  
die Welt \_\_\_\_\_.

wird trainieren – werden sehen

wird reisen – werden haben

wird arbeiten – wird sein

wird lassen

