



GELD: EINTRITT INS SCHWIMMBAD

Familie Schneider geht ins Schwimmbad.
Wie viel kostet der Eintritt?



Schwimmbad	
<u>Eintrittspreise:</u>	
Erwachsene	4 €
Kinder	2 €



GELD: EINTRITT INS SCHWIMMBAD

Mutter und Vater bezahlen den Preis für Erwachsene.
Nina und Tom bezahlen den Preis für Kinder.




Schwimmbad	
<u>Eintrittspreise:</u>	
Erwachsene	4 €
Kinder	2 €



GELD: EINTRITT INS SCHWIMMBAD

Du musst insgesamt vier Personen zusammenrechnen:



Achtung!

Beachte die unterschiedlichen Preise für Erwachsene und Kinder.



GELD: EINTRITT INS SCHWIMMBAD

Rechne zuerst den Preis für zwei Erwachsene aus:



Rechne nun den Preis für zwei Kinder aus:



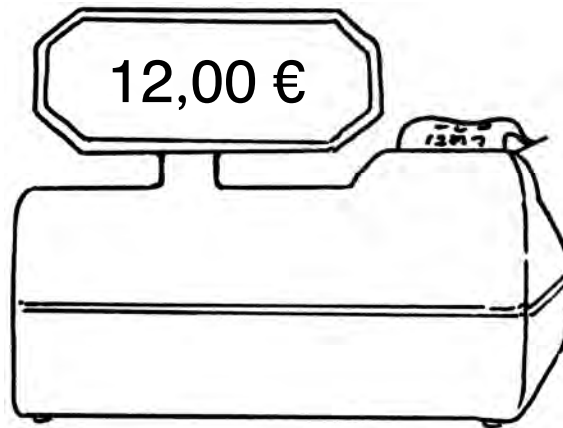
Rechne nun beide Preise zusammen:





GELD: EINTRITT INS SCHWIMMBAD

Der Eintritt kostet 12 €.



ZEIT: WOCHENTAGE

Heute ist der erste Tag in der Woche.
An welchem Tag in der Woche macht Jens was?

Heute, am _____, geht Jens wieder in die Schule.

Gestern, am _____, spielte er mit seiner Mannschaft Fußball.

Vorgestern, am _____, konnte er ausschlafen.
Er musste nicht zur Schule.

Morgen, am _____, hat Jens am Abend Fußballtraining.

Übermorgen, am _____, hat er Schulsport.

An den anderen beiden Tagen macht Jens mit seiner Klasse Ausflüge.

Am ersten Tag, am _____, geht er in den Zoo.





Am zweiten Tag, am _____, fährt er ins Theater.





ADDITION IM ZAHLENRAUM BIS 10

Wie viele Hühner sind zum Schluss am Futternapf?
Bilde Additionsaufgaben und berechne sie.




ADDITION IM ZAHLENRAUM BIS 10

Addieren = +


Beim Addieren zählst du zwei Zahlen zusammen.


→ Beispiel: $1 + 1 = 2$





ADDITION IM ZAHLENRAUM BIS 10

Wie viele Hühner sind am Futternapf?  _____


Wie viele Hühner kommen dazu?  _____

Rechne nun:

 +  = _____



ADDITION IM ZAHLENRAUM BIS 10



→ Beispiel:

1. Male an. Wie viele Hühner sind schon da?

--	--	--	--	--	--	--	--	--	--	--

2. Male an. Wie viele Hühner kommen dazu?

--	--	--	--	--	--	--	--	--	--	--




ADDITION IM ZAHLENRAUM BIS 10

Verwende Hilfsmittel wie Wendeplättchen  oder


Steckwürfel




ADDITION IM ZAHLENRAUM BIS 10




$$7 + 1 = 8$$



$$2 + 6 = 8$$



$$3 + 3 = 6$$



$$4 + 3 = 7$$