




Flächen und Körper 1

Wie viele Dreiecke siehst du hier insgesamt?



Flächen und Körper 2

Wie viele Rechtecke siehst du hier insgesamt?

zur Ansicht





Flächen und Körper **1**

Man sieht insgesamt **10** Dreiecke.

**Download
zur Ansicht**



Flächen und Körper **2**

Man sieht insgesamt **63** Rechtecke.

Beachte: Auch die 20 Quadrate sind Rechtecke!




Flächen und Körper 3

Welche Fläche entsteht, wenn du folgende Punkte verbindest?

a) $2 - 6 - 17 - 8 - 2$

b) $4 - 14 - 10 - 4$


c) $22 - 18 - 20 - 24 - 22$



Flächen und Körper 4

Welche Fläche entsteht, wenn du folgende Punkte verbindest?

a) $2 - 5 - 4 - 2$

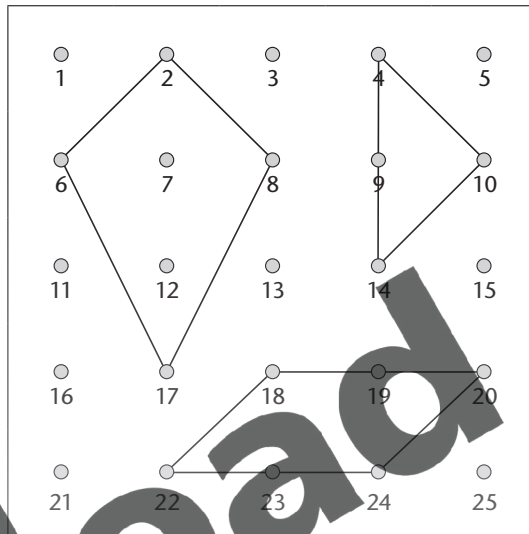


zur Ansicht

Flächen und Körper 3

Es entsteht

- a) ein Drachenviereck.
- b) ein gleichschenkelig-rechtwinkliges Dreieck.
- c) ein Parallelogramm.



Download zur Ansicht

Flächen und Körper 4

Es entsteht

- a) ein gleichschenkliges Trapez.

