


**Aufgabe**


Suche dir einen Partner. Spielt gemeinsam das Kartenspiel.

Spielregeln

1. Nehmt euch die Kärtchen, mischt sie und teilt sie unter euch auf.




2. Stellt euch nun gegenseitig abwechselnd die Aufgaben.



3. Kann der Partner den Zeitpunkt davor oder danach richtig nennen, bekommt er die Karte.



4. Ist seine Antwort falsch, darf der Fragensteller die Karte behalten.



5. Wer am Ende die meisten Kärtchen hat, gewinnt.



Wie viel Uhr war es davor?

Uhrzeit: 08:45 Uhr

Vor 10 Minuten war es?

08:35 Uhr

Wie viel Uhr war es davor?

Uhrzeit: 13:15 Uhr

Vor 15 Minuten war es?

13:00 Uhr

Wie viel Uhr war es davor?

Uhrzeit: 22:22 Uhr

Vor 17 Minuten war es?

22:05 Uhr

Wie viel Uhr war es davor?

Uhrzeit: 18:00 Uhr

Vor 45 Minuten war es?

17:15 Uhr

Wie viel Uhr war es davor?

Uhrzeit: 01:00 Uhr

Vor 60 Minuten war es?

00:00 Uhr

Wie viel Uhr war es davor?

Uhrzeit: 07:47 Uhr

Vor 23 Minuten war es?

07:24 Uhr

Wie viel Uhr war es davor?

Uhrzeit: 09:23 Uhr

Vor 1 Stunde und 22 Minuten
war es?

8:01 Uhr

Wie viel Uhr war es davor?

Uhrzeit: 17:40 Uhr

Vor 50 Minuten war es?

16:50 Uhr

Wie viel Uhr war es davor?

Uhrzeit: 24 Uhr

Vor 3 Stunden und 30 Minuten
war es?

20:30 Uhr

Wie viel Uhr war es davor?

Uhrzeit: 04:17 Uhr

Vor 18 Minuten war es?

03:59 Uhr



Wie viel Uhr ist es danach?

Uhrzeit: 05:20 Uhr

In 15 Minuten ist es?

05:35 Uhr

Wie viel Uhr ist es danach?

Uhrzeit: 23:12 Uhr

In 30 Minuten ist es?

23:42 Uhr

Wie viel Uhr ist es danach?

Uhrzeit: 8:00 Uhr

In 60 Minuten ist es?

09:00 Uhr

Wie viel Uhr ist es danach?

Uhrzeit: 15:15 Uhr

In 27 Minuten ist es?

15:42 Uhr

Wie viel Uhr ist es danach?

Uhrzeit: 11:11 Uhr

In 2 Stunden und 15 Minuten
ist es?

13:26 Uhr

Wie viel Uhr ist es danach?

Uhrzeit: 12:15 Uhr

In 45 Minuten ist es?

13 Uhr

Wie viel Uhr ist es danach?

Uhrzeit: 22:25 Uhr

In 25 Minuten ist es?

22:50 Uhr

Wie viel Uhr ist es danach?

Uhrzeit: 02:12 Uhr

In 48 Minuten ist es?

03:00 Uhr

Wie viel Uhr ist es danach?

Uhrzeit: 00:15 Uhr

In 4 Stunden und 15 Minuten
ist es?

04:30 Uhr

Wie viel Uhr ist es danach?

Uhrzeit: 06:23 Uhr

In 33 Minuten ist es?

06:56 Uhr