

Download

Heinz-Lothar Worm

Die Zeit

8 Stationen für die 1. und 2. Klasse



Downloadauszug
aus dem Originaltitel:

 Auer

Die Zeit

8 Stationen für die 1. und 2. Klasse

Dieser Download ist ein Auszug aus dem Originaltitel
Ethik an Stationen.






Über diesen Link gelangen Sie zur entsprechenden Produktseite im Web.

<http://www.auer-verlag.de/best/04923>



Aufgabe

Nummeriere die Bilder vom Leben einer Tomatenpflanze in der richtigen Reihenfolge.





Aufgaben

1. Nummeriere die Bilder vom Leben einer Katze in der richtigen Reihenfolge.
2. Schreibe eine kurze Geschichte dazu.





Aufgabe

Schreibe zu den Bildern den richtigen Satz.


Jetzt wird das Richtfest gefeiert.

Die Baugrube für das neue Haus wird ausgehoben.

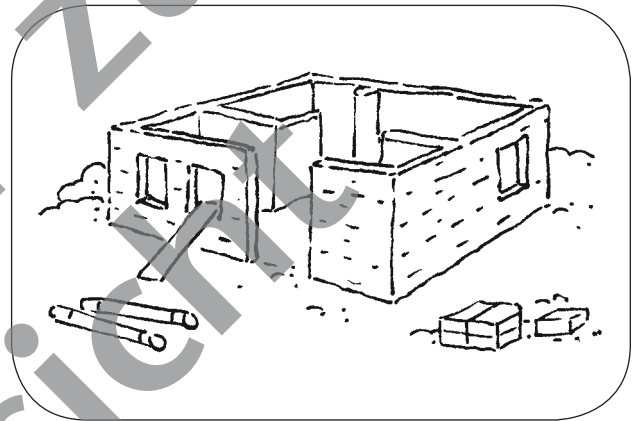
Nun ist das neue Haus fertig und bewohnt.

Der Rohbau wird errichtet.


1.




2.



3.



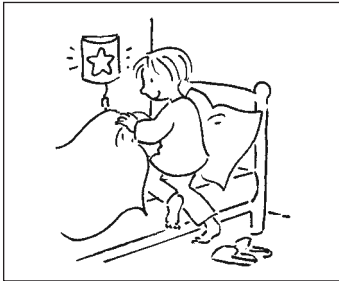
4.






Aufgabe

Schneide die Sätze unten aus und klebe sie unter das richtige Bild.



Simon steht auf.



Muster zur Ansicht

Abend • Nacht • Morgen • Mittag • Nachmittag



Simon ist auf dem Spielplatz.

Simon geht ins Bett.

Simon macht Hausaufgaben.

Simon isst zu Mittag.

Simon ist in der Schule.


Simon frühstückt.



Aufgabe

Ordne zu: Arbeit oder Freizeit?

1.



2.



3.




4.



5.



6.





Aufgaben

1. Verbinde jedes Bild mit dem passenden Text.



Arbeit
macht Freude!

Arbeit enttäuscht!

Arbeit
macht Mühe!

2. Male rot an, was dich bei den Hausaufgaben unterstützt.
Male blau an, was dich bei den Hausaufgaben stört.

Fernsehen

Ruhe

Hund

kleine
Geschwister

Telefon

leise Musik

MP3-Player

3. Schreibe weitere Dinge auf, die dich

unterstützen: _____


stören: _____



Aufgabe

Schneide die Sprechblasen aus und klebe sie in das passende Bild.


1.




2.



3.



4.



Ich habe keine Lust, noch mehr zu rechnen.

Kann ich nicht etwas anderes arbeiten?

Du hast heute wieder keine Ausdauer, David!

Alex, du kommst immer zu spät zum Unterricht. Mit der Pünktlichkeit muss es besser werden!

Warum kommen Sie jeden Tag zu spät zur Arbeit? Ich muss um mehr Pünktlichkeit bitten!


Aber die angefangene Arbeit muss zu Ende gebracht werden!



Aufgaben

Prüfe deine Genauigkeit.

1. Male die Blumen ganz genau aus. Male nicht über die Linien.



2. Wie oft bist du über die Linien gekommen?

gar nicht Sehr genau!

einmal

zweimal

dreimal Genau!

viermal

fünfmal Weniger genau!

sechsmal

mehr als sechsmal Ungenau!

Alles hat seine Zeit 1/Station 1

Seite 43

Die ungeordnete Reihenfolge der Bilder lautet (von links nach rechts gelesen):
6, 1, 5, 3, 2, 7, 4

Alles hat seine Zeit 2/Station 2

Seite 44

Die ungeordnete Reihenfolge der Bilder lautet (von links nach rechts gelesen):
5, 3, 2, 6, 1, 4

Alles braucht seine Zeit/Station 3

Seite 45

Bild 1: Die Baugrube für das neue Haus wird ausgehoben.
Bild 2: Der Rohbau wird errichtet.
Bild 3: Jetzt wird das Richtfest gefeiert.
Bild 4: Nun ist das neue Haus fertig und bewohnt.