


Name:

Datum:



Textseite

1.3 Wie kam es zu den Entdeckungsfahrten?

a) Handel mit Fernost

Was die Menschen im Mittelalter zum Leben brauchten, bezogen sie vor allem aus ihrer unmittelbaren Nähe. Nur wenige Güter wurden über weite Strecken transportiert. Die Handelswege waren schlecht ausgebaut und der Transport mit Pferd und Wagen bzw. Schiff mühsam und teuer (I und II).

Einige Luxusgüter konnte man nur im Fernen Osten (China, Indien usw.) kaufen. Dazu gehörten Seide, Teppiche, Gewürze wie Pfeffer, Muskatnuss oder Gewürznelke, Parfum, Farben, Elfenbein, Perlen, Silber, Gold und Edelsteine. Solche Luxuswaren waren vor allem wegen des monatelangen Transports sehr kostspielig und nur die reichen Adelshäuser konnten sie sich leisten. Aber für die Fernkaufleute war der Handel mit diesen Gütern ein sehr einträgliches Geschäft.

Die Handelswege nach Fernost führten per Schiff übers Mittelmeer, dann über Land durch Persien nach China oder über das Arabische Meer nach Indien (III).

b) Der Handel wird gestört

Der Handel mit dem Fernen Osten war nicht nur wegen der Entfernung sehr schwierig. Außerhalb Europas beherrschten die Araber den Zwischenhandel und verlangten hohe Zölle. Hinzu kam, dass die Türken 1453 die Stadt Konstantinopel (heute Istanbul) eroberten und dort das Osmanische Reich aufbauten. Sie sperrten den Landweg nach Osten (III).

c) Zwei neue Wege nach Fernost

Für den europäischen Handel wurde die Frage immer drängender, ob man nicht auch auf anderen Wegen als dem direkten Landweg ostwärts nach Indien, wie

man damals den gesamten Osten nannte, gelangen konnte.

Als die Erkenntnis, dass die Erde eine Kugel ist, immer mehr Anhänger fand, gab es wagemutige Seefahrer, die sich aufs offene Meer hinaus wagten. Zwei Wege nach Fernost boten sich an (III):

1. Nach Süden um Afrika herum

oder

2. nach Westen einmal um den Erdball herum.

Noch niemand hatte sich bisher auf solch eine Fahrt begeben. Von Afrika waren nur die Küsten im Norden bekannt.

d) Seefahrer erkunden neue Handelswege

1485 erkundete der Portugiese Diego Cão die Westküste Afrikas bis hinunter nach Namibia. Zwei Jahre später erreichte Bartholomeu Diaz die Südspitze Afrikas, segelte aber nicht weiter nach Indien (III).

1492 unternahm Christoph Kolumbus den Versuch, Indien auf dem Seeweg nach Westen zu erreichen. Aber erst 1498 kam der Seefahrer Vasco da Gama auf seinem Weg um Afrika herum bis nach Indien.


e) Ein neues Zeitalter

Diese Entdeckungsfahrten am Ende des 15. Jahrhunderts setzten eine Welle von weiteren Entdeckungen in Gang. Dies hatte zur Folge, dass sich die Vorstellungen der Europäer von der Welt änderten und heute kein Gebiet der Erde mehr unbekannt und unerforscht ist.

Die Entdeckungen läuteten schließlich zusammen mit anderen Umwälzungen in Europa ein neues Zeitalter ein: die Neuzeit.

Name:

Datum:




Bildseite

1.3 Wie kam es zu den Entdeckungsfahrten?



I. Zweirädriger Transportkarren



II. Kogge (breit gebautes Segelschiff für den Warentransport)



III. Weltkarte der heutigen Zeit

Name:

Datum:



Arbeitsblatt

1.3 Wie kam es zu den Entdeckungsfahrten?

Lösung:

Problem:

Lösung:

Aufgabe 1:

Welches Problem belastete im ausgehenden Mittelalter den Handel mit Fernost? Welche Lösungen suchte man für dieses Problem? Schreibe die Antworten oben in die Kästen und zeichne in der Karte die neuen Routen ein.

Aufgabe 2:

Mit welchem Namen bezeichnete man den Fernen Osten? _____


Aufgabe 3:

Schaue in einem Atlas nach, wie die einzelnen Länder des Fernen Ostens, die in der Weltkarte mit ihren Anfangsbuchstaben gekennzeichnet sind, heißen, und schreibe ihre Namen auf.

- | | |
|---------|---------|
| I _____ | M _____ |
| T _____ | C _____ |
| I _____ | P _____ |

Name:

Datum:



1.3 Wie kam es zu den Entdeckungsfahrten?

Lösung:
neuer Seeweg
nach Westen

Problem:
hohe Zölle und
gesperrter Handelsweg

Lösung:
neuer Seeweg
um Afrika herum

Aufgabe 1:

Welches Problem belastete im ausgehenden Mittelalter den Handel mit Fernost? Welche Lösungen suchte man für dieses Problem? Schreibe die Antworten oben in die Kästen und zeichne in der Karte die neuen Routen ein.

Aufgabe 2:

Mit welchem Namen bezeichnete man den Fernen Osten? Indien

Aufgabe 3:

Schaue in einem Atlas nach, wie die einzelnen Länder des Fernen Ostens, die in der Weltkarte mit ihren Anfangsbuchstaben gekennzeichnet sind, heißen, und schreibe ihre Namen auf.

- | | |
|---------------------|----------------------|
| I <u>Indien</u> | M <u>Malaysia</u> |
| T <u>Thailand</u> | C <u>China</u> |
| I <u>Indonesien</u> | P <u>Philippinen</u> |