

Übungsplan von _____

Beginne mit der Aufgabe (X).

Bearbeite sie sorgfältig und kreuze die entsprechende Nummer auf dem Übungsplan an. Kontrolliere dann genau und verbessere, falls nötig.

Wie war die Aufgabe? Male das passende Gesicht in die letzte Spalte.



= Puh, ganz schön schwer.



= Anstrengend, aber ich hab's geschafft.



= Hab' ich locker alleine geschafft.

Wähle jetzt deine nächste Aufgabe aus und bearbeite sie auf die gleiche Weise.



1	Kreise zeichnen				
2	Kreise zeichnen – ein Spiel für 2 Kinder				
3	Fachbegriffe kennen				
4	„und“-Aufgaben				
5	Parallele Linien zeichnen				
6	Senkrechte Linien zeichnen				
7	Geo-Diktat für 2 Kinder				
8	Flächen mit Zirkel und Geodreieck zeichnen				
9	Muster ausmalen				
10	Regel-Meister – ein Spiel für 2 Kinder				
11	Muster nach Vorlage zeichnen I				
12	Muster nach Vorlage zeichnen II				
13	Muster selbst erfinden				
14	Figuren mit Zirkel und Geodreieck zeichnen I				
15	Figuren mit Zirkel und Geodreieck zeichnen II				

5

Auftragskarte:
Parallele Linien zeichnen



Material:

- ✓ Unterlage
- ✓ Bleistift
- ✓ Arbeitskarte
- ✓ blanko Arbeitsblatt
- ✓ Geodreieck
- ✓ Lösung

Aufgabe:

Nimm die Arbeitskarte mit dem passenden Tier.
Zeichne nach Anweisung.

Zur Kontrolle lege die Lösungsfolie auf.

Verbessere, falls nötig.



5

Auftragskarte:
Parallele Linien zeichnen



Material:

- ✓ Unterlage
- ✓ Bleistift
- ✓ Arbeitskarte
- ✓ blanko Arbeitsblatt
- ✓ Geodreieck
- ✓ Lösung

Aufgabe:

Nimm die Arbeitskarte mit dem passenden Tier.
Zeichne nach Anweisung.

Zur Kontrolle lege die Lösungsfolie auf.




Verbessere, falls nötig.



5

Arbeitskarte:
Parallele Linien zeichnen




Aufgabe:
Zeichne eine Gerade.
Zeichne 10 parallele Geraden im Abstand von jeweils 1 cm dazu.



5

Arbeitskarte:
Parallele Linien zeichnen

Aufgabe:
Zeichne eine Gerade.
Zeichne 10 parallele Geraden im Abstand von jeweils 0,5 cm dazu.



5

Arbeitskarte:
Parallele Linien zeichnen

Aufgabe:
Zeichne eine Gerade.
Zeichne 2 parallele Geraden im Abstand von jeweils 8 cm dazu.

